

3.SINIF

3.HAFTA ETKİNLİKLERİ



Facebook Grubumuz: <https://www.facebook.com/groups/elgityayincilik>



Whatsapp İletişim Adresimiz: 0 (544) 386 23 99

www.elgityayincilik.com



Aşağıda verilen noktalı alanları tamamlayalım.

üç nokta

ünlem işareti

virgül

soru işareti

nokta

1- Tamamlanmayan cümlelerin sonunda kullanılır.

2- Cümle sonunda kullanılır.

3- Soru cümlelerin sonunda kullanılır.

4- Şaşkınlık, kızma gibi ifadelerden sonra kullanılır.

5- Eş görevli sözcükleri ayırmada kullanılır.



Altı çizili olarak verilen kelimelerin zıt anlamlılarını cümle içinde kullanalım.

Onun evi buraya çok yakındı.



.....

Tatlı biber yemeęi seviyorum.



.....

Bu araba çok hızlı gidiyor.



.....

Meyveler yağmurdan ıslanmış.



.....

Sorular çok kolaymış bu sene.



.....



Altı çizili olarak verilen kelimelerin eş anlamlılarını cümle içinde kullanalım.

Bu sene o da sınava girecek.



.....

Misafirleri içeriye aldılar.



.....

Eyleri iki sokak ötedeydi.



.....

Sorunun cevabını herkes bildi.



.....

Sonbaharda yağmurlar yağar.



.....



Aşağıda verile noktalı alanlara <, >, = işaretlerinden uygun olanı yerleştiriniz.

324 425

163 435

613 461

642 134

135 135

475 371

900 400

834 489

426 467

435 345

975 734

676 676

121 121

415 728

554 243



Aşağıda verile sayıları sıralayalım.

Büyükten Küçüğe Sıralama

435, 424, 761, 365

..... < < <,

673, 313, 396, 123

..... < < <,

563, 641, 970, 572

..... < < <,

553, 534, 386, 456

..... < < <,

Küçükten Büyüğe Sıralama

645, 389, 752, 653

..... > > >,

783, 637, 285, 485

..... > > >,

908, 534, 314, 461

..... > > >,

463, 879, 643, 134

..... > > >,



Aşağıda verilen sayı örüntülerinde kuralı bozan sayıyı boyayınız.

536	540	544	546	550	554
76	84	92	100	108	114
123	128	133	145	150	155
649	651	653	654	656	658



Aşağıda verilen sayı örüntülerini uygun şekilde devam ettirelim.

1- 433, 436,, 442, 445,

2- 134, 144, 154,, 174,

3-, 740, 742,, 746, 748,

4- 542,, 552,, 562, 567

5- 226, 234,, 250,, 266

6-, 618, 619, 621, 622

7- 425,, 433, 437,, 444



Aşağıda verilen ifadelerden doğru olanlara D yanlış olanlara Y yazınız.

Dünyamız, hava, su ve kara katmanlarından oluşur.

Dünyamızın 1/4'ü sulardan oluşmaktadır.


Hava ve su küre canlıların yaşaması için yeterli katmanlardır.

Her canlının ihtiyaç duyduğu katmanlar birbirinden farklılık gösterebilir.

Hava katmanının bir diğer ismi atmosfer'dir.

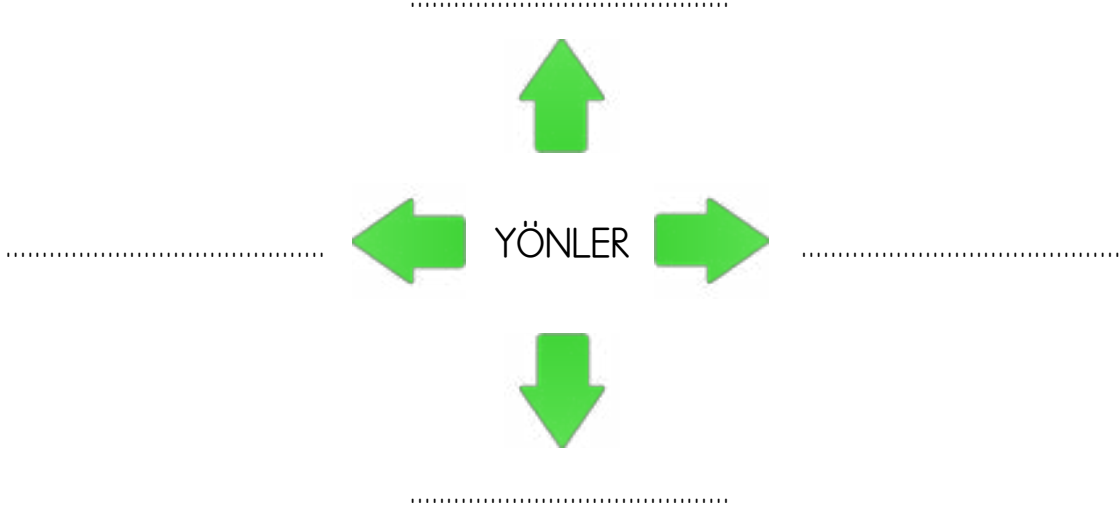



Aşağıda verilenleri uygun katmanlara yazarak yerleştiriniz.




.....		
.....
•	•	•
•	•	•
•	•	•
•	•	•

 Aşağıda verilen yönlerin isimlerini yazınız.



 Aşağıda verilen alana sınıfınızın krokisini çizin.





Write the numbers and color.(Sayıları yazalım ve boyayalım.)

1

2

3

4

5

6

7

8

9

10

11

12

13

14

15

16

17

18

19

20

🔔 İşaretili alanlardan kesip boyayarak gömleği oluşturalım.

